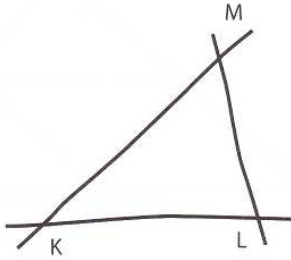


Konstrukce trojúhelníku – sss, sus, usu

1. Sestroj trojúhelník, je-li dáno:

$\triangle KLM$: $k = 41$ mm; $l = 55$ mm; $m = 80$ mm;

Rozbor



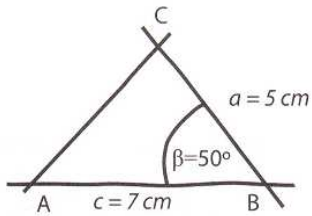
Postup

Konstrukce

2. Sestroj trojúhelník, je-li dáno:

$\triangle ABC$: $a = 5$ cm; $\beta = 50^\circ$; $c = 7$ cm

Rozbor



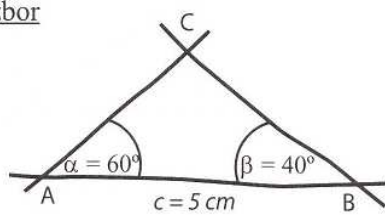
Postup

Konstrukce

3. Sestroj trojúhelník, je-li dáno:

$\triangle ABC$: $\alpha = 60^\circ$; $\beta = 40^\circ$; $c = 5$ cm

Rozbor



Postup

Konstrukce