


Pravoúhlá soustava souřadnic

1. Zakresli body A, B, C, D, E zadané pomocí jejich souřadnic:


A [-2; -1], B [4; -1], C [5; 3], D [4; 5], E [-1; 3]



2. Zapiš souřadnice vrcholů čtyřúhelníku MNOP:


M [;], N [;], O [;], P [;],

Čtyřúhelník MNOP je



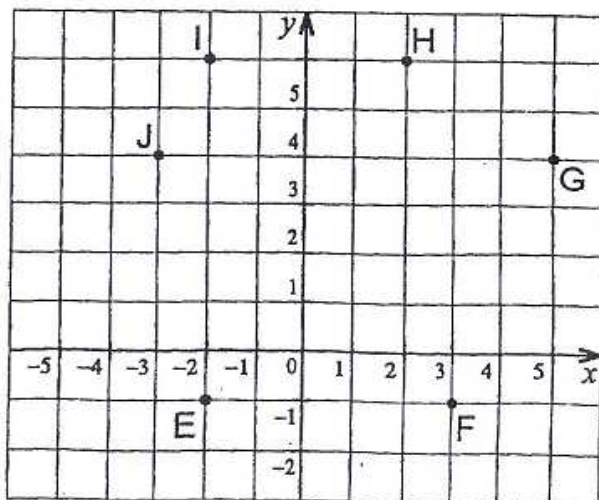
3. Zakresli body A, B, C, D, E zadané pomocí jejich souřadnic:

A [-2; 4], B [0; 3], C [3; 2], D [3; -2], E [-2; -2]



4. Zapiš souřadnice vrcholů šestiúhelníku EFGHIJ:

E [;], F [;], G [;], H [;], I [;], J [;]



5. Zakresli body zadané pomocí jejich souřadnic:

A [1; 3], B [5; 1], C [-4; 2], D [0; 1], E [-5; 0], F [-3; -3], G [0; -1], H [4; -2]

